



# CE2 - Bilan de temps n° 1

## Les périodes historiques

Nom : \_\_\_\_\_

Prénom : \_\_\_\_\_

Date : \_\_/\_\_/\_\_

### Compétences évaluées :

<b>Repérer et situer quelques évènements dans un temps long.</b>	<b>☉ S.C</b>	<b>A</b>	<b>B</b>	<b>C</b>	<b>D</b>
Je connais le nom des différentes périodes de l'histoire.		A	B	C	D
Je connais les dates et les évènements charnières de chaque période.		A	B	C	D
<b>Se repérer dans le temps et mesurer des durées.</b>	<b>☉ S.C</b>	<b>A</b>	<b>B</b>	<b>C</b>	<b>D</b>
Je sais lire et écrire des nombres romains.		A	B	C	D

❶ Découpe et colle les images dans l'ordre chronologique. Puis remplis les informations demandées.

	Nom de la période : ..... Date de fin : ..... Évènement de fin : ..... .....
	Nom de la période : ..... Date de fin : ..... Évènement de fin : ..... .....
	Nom de la période : ..... Date de fin : ..... Évènement de fin : ..... .....
	Nom de la période : ..... Date de fin : ..... Évènement de fin : ..... .....
	Nom de la période : .....

② Remplis le tableau avec l'équivalence en chiffres romains Puis complète les égalités en t'aidant du tableau.

1	2	3	4	5	6	7	8	9
10	20	30	40	50	60	70	80	90

XIV = .....

XXXV = .....

XCII = .....

XIX = .....

XLI = .....

15 = .....

18 = .....

29 = .....

56 = .....

32 = .....



# CM1 - Bilan d'histoire n° 1

## Les périodes historiques

Nom : \_\_\_\_\_

Prénom : \_\_\_\_\_

Date : \_\_/\_\_/\_\_

### Compétences évaluées :

Je connais le nom des différentes périodes de l'histoire.	A	B	C	D
Je connais les dates et les évènements charnières de chaque période.	A	B	C	D
Je sais lire et écrire des nombres romains.	A	B	C	D

❶ Découpe et colle les images dans l'ordre chronologique. Puis remplis les informations demandées.

	Nom de la période : ..... Date de fin : ..... Évènement de fin : ..... .....
	Nom de la période : ..... Date de fin : ..... Évènement de fin : ..... .....
	Nom de la période : ..... Date de fin : ..... Évènement de fin : ..... .....
	Nom de la période : ..... Date de fin : ..... Évènement de fin : ..... .....
	Nom de la période : .....

② Remplis le tableau avec l'équivalence en chiffres romains Puis complète les égalités en t'aidant du tableau.

1	2	3	4	5	6	7	8	9
10	20	30	40	50	60	70	80	90

XIV = .....

XXXV = .....

XCII = .....

XIX = .....

XLI = .....








15 = .....

18 = .....

29 = .....

56 = .....

32 = .....










# Bilan de temps / histoire n°1

## Les périodes historiques

**CORRECTION**

❶ Découpe et colle les images dans l'ordre chronologique. Puis remplis les informations demandées.

	<p>Nom de la période : <b>Préhistoire</b></p> <p>Date de fin : <b>3500 avt JC</b></p> <p>Évènement de fin : <b>découverte du feu</b></p>
	<p>Nom de la période : <b>Antiquité</b></p> <p>Date de fin : <b>476</b></p> <p>Évènement de fin : <b>chute de l'empire romain</b></p>
	<p>Nom de la période : <b>Moyen-âge</b></p> <p>Date de fin : <b>1492</b></p> <p>Évènement de fin : <b>découverte de l'Amérique</b></p>
	<p>Nom de la période : <b>Temps Modernes</b></p> <p>Date de fin : <b>1789</b></p> <p>Évènement de fin : <b>révolution française</b></p>
	<p>Nom de la période : <b>Époque Contemporaine</b></p>

❷ Remplis le tableau avec l'équivalence en chiffres romains Puis complète les égalités en t'aidant du tableau.

1	2	3	4	5	6	7	8	9
I	II	III	IV	V	VI	VII	VIII	IX
10	20	30	40	50	60	70	80	90
X	XX	XXX	XL	L	LX	LXX	LXXX	XC

XIV = 14

XXXV = 35

XCII = 92

XIX = 19

XLI = 41

15 = XV

18 = XVIII

29 = XXIX

56 = LVI

32 = XXXII