

Bilan d'histoire n°7

L'Antiquité- La conquête romaine (1/2)

Nom : _____

Prénom : _____

Date : __ / __ / __

1. Avoir des connaissances sur Rome et son empire.

..... / 9

Barre la mauvaise réponse :

- Selon la légende, les jumeaux Romulus et Remus ont été abandonnés sur un (fleuve / trottoir).
- Puis ils ont été allaités par une (louve / chienne).
- Plus tard, les deux frères voulaient fonder une ville mais n'étaient pas d'accord sur le (nom / lieu).
- Après une lutte meurtrière, (Rémus / Romulus) gagna et donna son nom à la ville de Rome.

Complète la tenue du légionnaire:



2. Comprendre et connaitre les principales étapes de la conquête romaine.

..... / 7

Qui était Vercingétorix ?

Quelle bataille a gagné Vercingétorix ?

Quelle bataille a gagné César ? En quelle année?.....

Comment César a-t-il fait pour gagner cette bataille ? (3 éléments)


.....
.....

3. Connaitre l'organisation de la Gaule par les romains.

..... / 12

Complète le texte avec les mots suivants : commerce, armées, routes, ponts, villes, provinces, ports.

Après la conquête, la Gaule a été divisée en quatre Les Romains ont construit ou agrandi de nombreuses Des ont permis d'aller d'un point à l'autre de l'Empire. Des et des ont facilité la progression des et permettaient au de se développer.



Bilan d'histoire n°7

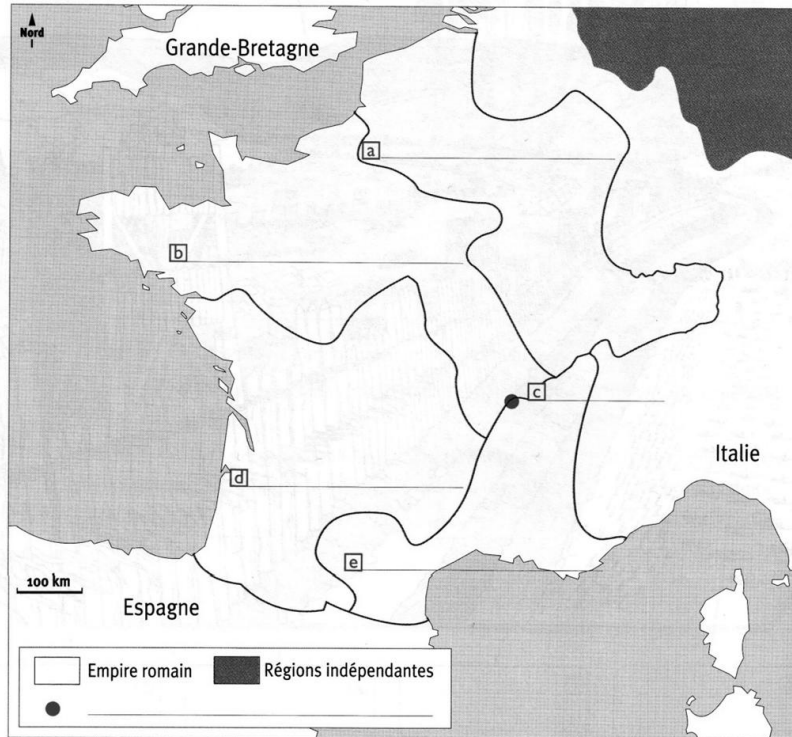
L'Antiquité- La conquête romaine (2/2)

Nom : _____

Prénom : _____

Date : __/__/__

Complète la carte avec le nom des provinces et la capitale des Gaules:




4. Savoir ce qu'est la romanisation et en donner quelques caractéristiques.

..... /12

Relie les monuments à l'utilisation et à leur illustration :

Amphithéâtre • pour célébrer l'empereur romain •



Arènes • lieu de prière •



Temple • combat de gladiateurs •



Arc de triomphe • spectacle •



Aqueduc • transport d'eau •



Comment qualifie-t-on la période gallo-romaine qui durera 3 siècles?

1 (18 à 20 pts)

2 (14 à 17 pts)

Résultat :/ 40

Signature des parents :

3 (10 à 13 pts)

4 (moins de 10 pts)

Résultat :/ 20