

Defi internet 2

Le transport pour l'Angleterre

Élèves :

Classe(s) :

MISSION

Tu vas devoir recueillir des informations sur les moyens que nous emprunterons pour nous rendre en Angleterre, et les transports que tu rencontreras à Londres.

Suis les pistes que je t'indiquerai.

Appuie sur la touche « Ctrl » et clique sur les liens en bleu qui te sont proposés.

Tu dois écrire les réponses dans les cases vertes.

Tes réponses doivent être écrites en « Century Gothic » de taille 12 - vert standard

 **Kingswood**
Learning by doing



Question 1

Sur la carte, trace le trajet depuis Villiers-le-Bel jusqu'à Ashford, en utilisant des flèches pour les trois étapes suivantes :

- Villiers-le-Bel → Calais.
- Calais → Folkestone.
- Folkestone → Ashford.

Pour cela, dans le menu, clique sur Insertion -> formes -> 



Question 2

En te rendant sur le site : http://fr.mappy.com/itinerary_homepage , trouve le nombre total de kilomètres pour notre voyage. **346 km**

?

Question 3 De Calais à Folkestone : le Tunnel sous la Manche

(aide-toi du site http://fr.wikipedia.org/wiki/Tunnel_sous_la_Manche pour répondre aux questions).

Quel est le nom anglais du Tunnel sous la Manche ?

Channel Tunnel

De combien de tubes est-il composé ?

3

Quelle est sa longueur totale ?

50,5km

Combien de kilomètres parcourt-on sous la mer ?

37

Combien de temps dure la traversée ?

35mn

Quel est le nom du train de voyageurs sans véhicule ?

Eurostar

Question 4 Nous emprunterons Le Shuttle. Explique de quoi il s'agit.

Aide-toi du site : <http://www.eurotunnelgroup.com/fr/groupe-eurotunnel/exploitation/le-shuttle/>

C'est une navette transportant des voyageurs en voiture ou autocars.

Question 5 Pourquoi avons-nous choisi ce mode de transport ?

Aide-toi du site : <http://www.eurotunnel.com/fr/informations-sur-votre-voyage/Pourquoi-Eurotunnel/>

C'est le service le plus simple pour traverser la Manche avec son propre véhicule afin d'être libre une fois en Angleterre.

Question 6

Observe les deux photos puis répons aux questions.



Quelle est la particularité de la circulation des voitures en Angleterre ?

Elles circulent à gauche.

Indique le numéro de la photo qui correspond au pays.

Angleterre

2




France

1

Question 7 A l'aide de « Google Images » et des fonctions copier/coller, trouve une image pour :

Le Shuttle



<p>Un taxi londonien</p>			
<p>Un bus londonien</p>			
<p>Le symbole du métro londonien</p>			

BONNE CHANCE

Envoyez vos réponses en pièce jointe à : [XXX](#)

Barème de correction : 1 point par réponse juste

Total: / 19