

# Defi Internet 1

## La Vème République

Élèves :

Classe(s) :

### MISSION

Tu vas devoir recueillir le maximum d'informations sur le sujet demandé à l'aide des indications qui te seront données.

Appuie sur la touche « Ctrl » et clique sur les liens en bleu qui te sont proposés.

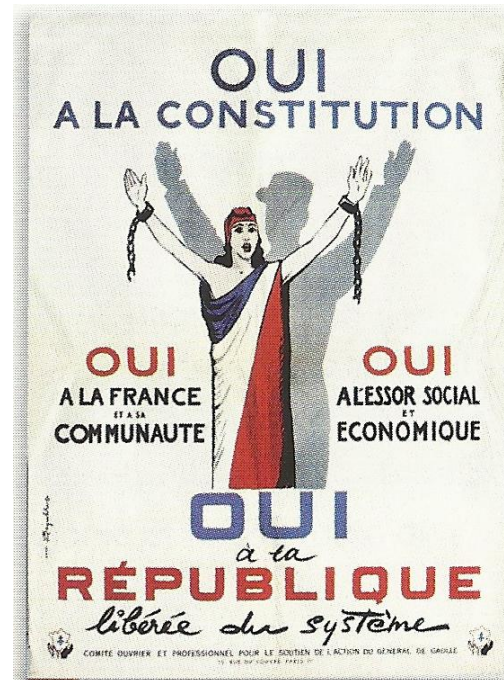
Tu dois écrire les réponses dans les cases orangées.

Tes réponses doivent être écrites en « Calibri » taille 14 - vert

### Document 1

Source: Odyssée  
Histoire /  
géographie/  
Histoire des arts  
CM2, Belin

La nouvelle  
Constitution

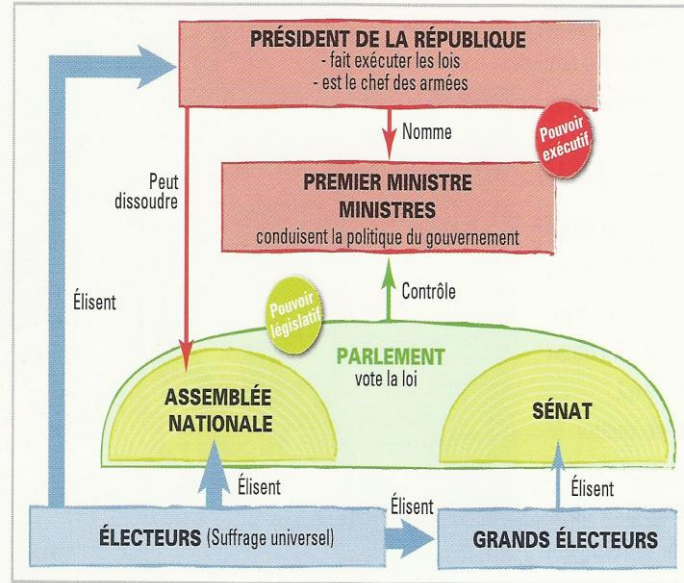


Qui est la femme du document ?	C'est Marianne	
Surligne la définition qui correspond au mot « Constitution », d'après l'affiche.	Forme de gouvernement d'un pays.	Manière dont quelque chose est organisée.
Clique sur le lien suivant <a href="http://fr.wikipedia.org/wiki/Charles_de_Gaulle">http://fr.wikipedia.org/wiki/Charles_de_Gaulle</a> puis copie et colle le premier paragraphe.	<b>Charles de Gaulle</b> , né le <u>22 novembre 1890</u> à <u>Lille</u> et mort le <u>9 novembre 1970</u> à <u>Colombey-les-Deux-Églises</u> , est un <u>général</u> , <u>écrivain</u> et <u>homme d'État français</u> . Il est <u>à la tête de la France</u> de <u>1944</u> à <u>1946</u> , puis de <u>1959</u> à <u>1969</u> .	
<p><b>Document 2</b></p> <p>Source: Odyssée Histoire / géographie / Histoire des arts CM2, Belin</p> <p>La politique de la France</p>	<p>« Nous avons choisi l'indépendance. Il s'agit que, sans renier notre amitié américaine, nous nous comportions en Européens. Chaque nation doit être responsable d'elle-même. De là, notre réprobation de la guerre qui s'étend en Asie* de jour en jour, le concours que nous apportons au développement des nouveaux États africains, les rapports que nous nouons avec la Chine, etc. Bref, il y a maintenant une politique de la France et elle se fait à Paris. »</p> <p>* Il parle ici de la guerre du Vietnam menée par les États-Unis.</p> <p>Allocution radiotélévisée de Charles DE GAULLE, le 27 avril 1967.</p>	
Qui est l'auteur du document ?	C'est Charles de Gaulle.	
De quand date ce document ?	Il date du 27 avril 1967.	
Comment va se comporter la France d'après ce document vis-à-vis des États-Unis ?	Elle va devenir indépendante.	
Explique la dernière phrase du document.	La France dirige seule, sans les États-Unis.	

**Document  
3**

Source: Odyssée  
Histoire /  
géographie /  
Histoire des arts  
CM2, Belin

Les institutions  
de la Vème  
République




Qu'élisent les électeurs ?	Les grands électeurs	L'Assemblée nationale	Le Président de la République
Qui représente le pouvoir législatif ?	L'Assemblée nationale		Le Sénat
Quels sont les pouvoirs du Président ?	Fait exécuter les lois	Est le chef des armées	Peut dissoudre l'Assemblée nationale Nomme le Premier ministre et les ministres


## Document 4

Source: Odyssée  
Histoire /  
géographie/  
Histoire des arts  
CM2, Belin


Les présidents  
de la Vème  
République  
jusqu'en  
2012.




Charles de Gaulle  
1958-1965  
1965-1969




Georges  
Pompidou  
1969-1974




Valéry Giscard  
d'Estaing  
1974-1981



François Mitterrand  
1981-1988  
1988-1995



Jacques Chirac  
1995-2002  
2002-2007



Nicolas Sarkozy  
2007-2012

Combien de Présidents y a-t-il eu sous la  
Vème République ?

6

Encadre en vert celui qui est resté le plus longtemps au pouvoir.

Utilise le logiciel "Paint". Clique droit pour « copier » l'image de la fiche défi puis utilise « coller » dans Paint. Sélectionne la forme "rectangle" et la couleur vert pour entourer celui qui est resté le plus longtemps au pouvoir. Quand tu as terminé, « sélectionne » l'image et procède par « copier - coller » pour replacer le nouveau dessin dans le défi.

Comment s'appelle l'actuel président de  
la République ?

C'est François Hollande

**Document  
5**

Source: Les Ateliers Hachette, Histoire / histoire des arts, Hachette Education.

Des barricades sur le boulevard Saint-Michel et devant la Sorbonne, à Paris, en 1968.



Décris la photo.

?

Clique sur le lien <http://keepschool.com/fiches-de-cours/lycee/histoire/crise-mai-1968.html> et retrouve les 3 crises de cette époque.

Crise sociale

Crise économique

Crise politique

**Document  
6**

Clique sur le lien suivant, <http://www.lemonde.fr/resultats-election-presidentielle/> et regarde les résultats du premier tour du 22 avril 2012.

Combien de candidats se sont présentés ?

10

Dans un tableau sur Excel, crée un tableau à deux colonnes : nom du candidat et nombre de voix et calcule avec la fonction somme le total du nombre de voix.

**BONUS**

**Complète la leçon à l'aide des mots que tu as rencontrés au cours du défi.**

En 1958, le général **Charles de Gaulle** fait voter une **constitution** qui renforce les pouvoirs du Président et des ministres. Il mène aussi une politique d'indépendance vis-à-vis des **Etats-Unis**. Il est favorable à la construction européenne et se rapproche de l'Allemagne.

En mai **1968**, une grave crise sociale, économique et politique perturbe la France pendant un mois.

Depuis le Président de Gaulle, **5** présidents se sont succédés jusqu'à 2012. Depuis cette date, c'est **François Hollande** qui est l'actuel président de la République française.

## **BONNE CHANCE**

Barème de correction : 1 point par réponse juste

Code couleur: **Vert** = juste, **Bleu** = incomplet, **Rouge** = faux

**Total: ..... / 35**