

ROUTINES MATHÉMATIQUES – Les longueurs

MESURE

Trace les segments demandés.



AB = 5 cm

CD = 8 cm

EF = 4 cm

GH = 6 cm

MESURE

Colorie la mesure qui te semble la bonne.




15 cm

50 m



3 cm

2 m



1 cm

2 m



10 cm

10 m

©BOUTDEGOMME

MESURE

Colorie la mesure qui te semble la bonne.



5 cm

50 cm



3 cm

1 m



10 cm

90 cm



2 cm

25 m

©BOUTDEGOMME

MESURE

Trace les segments demandés.



AB = 2 cm

CD = 7 cm

EF = 5 cm

GH = 3 cm

©CENICIENTA

ROUTINES MATHÉMATIQUES – Les longueurs

MESURE

Trace les segments demandés.



$$[AB] = 5 \text{ cm}$$

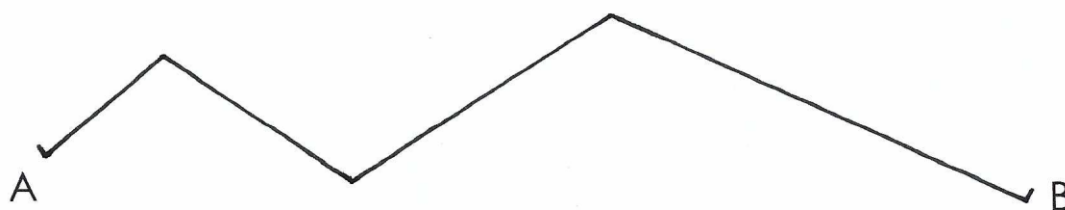
$$[CD] = 8 \text{ cm}$$

$$[EF] = 4 \text{ cm}$$

$$[GH] = 6 \text{ cm}$$

MESURE

Mesure la ligne brisée AB.



$$[AB] = \dots\dots\dots \text{ cm}$$

MESURE

Trace les segments demandés.



$$[AB] = 2 \text{ cm}$$

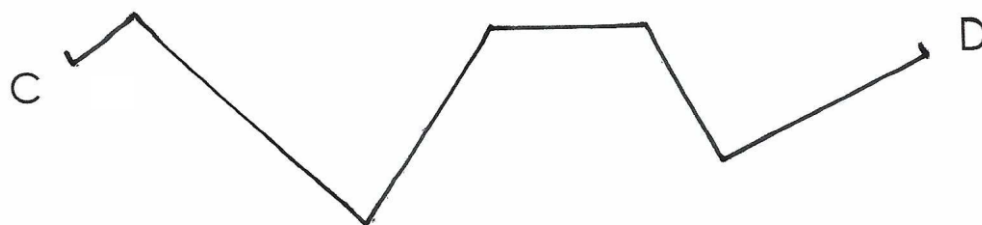
$$[CD] = 7 \text{ cm}$$

$$[EF] = 5 \text{ cm}$$

$$[GH] = 10 \text{ cm}$$

MESURE

Mesure la ligne brisée CD.

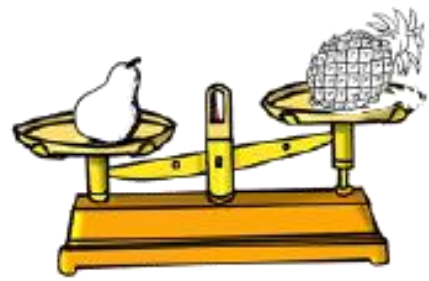
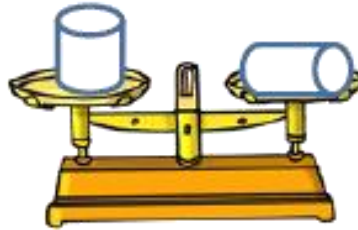
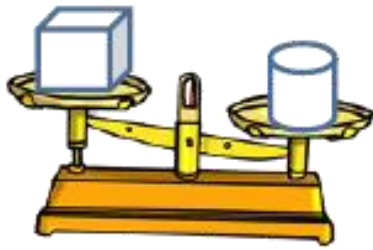


$$[CD] = \dots\dots\dots \text{ cm}$$

ROUTINES MATHÉMATIQUES – Les masses

MESURE

Colorie l'objet le plus lourd quand c'est possible.



MESURE

Colorie la mesure qui te semble la bonne.



g

kg



g

kg



g

kg




g

kg

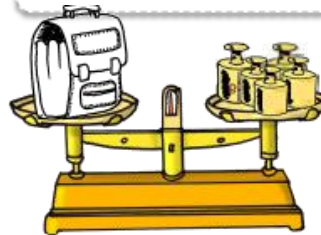


MESURE

Écris la masse de l'objet.



Masse :

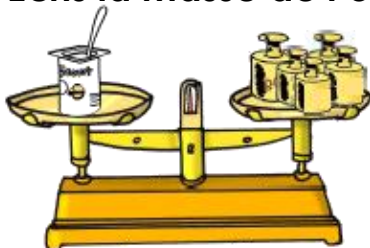


Masse :

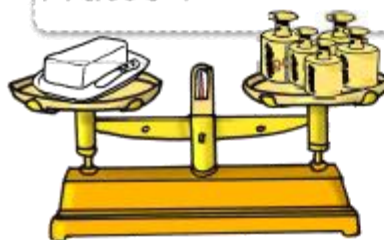


MESURE

Écris la masse de l'objet.



Masse :



Masse :



ROUTINES MATHÉMATIQUES – L'heure

MESURE

Écris l'heure du matin:



..... h



..... h



..... h



..... h

MESURE

Écris l'heure de l'après-midi:



..... h



..... h




..... h




..... h

MESURE


Dessine les aiguilles: en rouge pour les heures, en bleu pour les minutes




5h15



8h00



6h45



1h30

MESURE


Dessine les aiguilles: en rouge pour les heures, en bleu pour les minutes



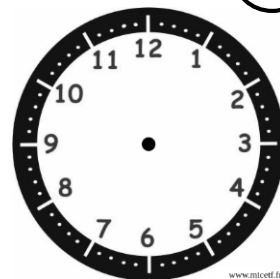
7h00



9h45



10h30

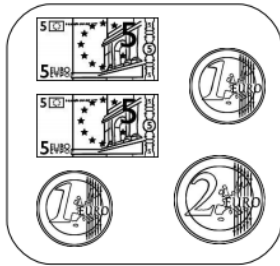


12h15

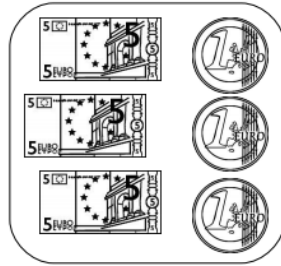
ROUTINES MATHÉMATIQUES – La monnaie

MESURE

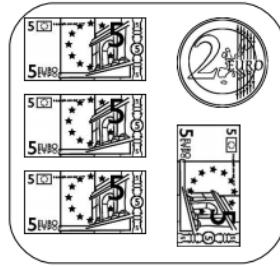
Colorie les pièces et/ou les billets pour obtenir la somme indiquée.



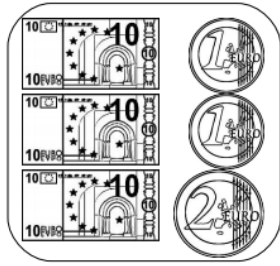
7 €



12 €



17 €



23 €

MESURE

Dessiner les pièces et/ou les billets pour obtenir la somme indiquée.

23€	
55€	
19€	
6€	

MESURE

Calcule les sommes d'argent qui sont représentées.

MESURE

Calcule les sommes d'argent qui sont représentées.
