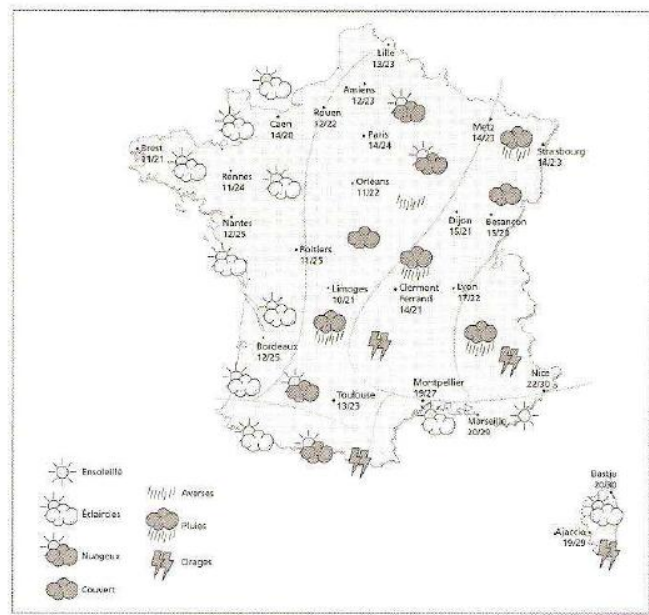
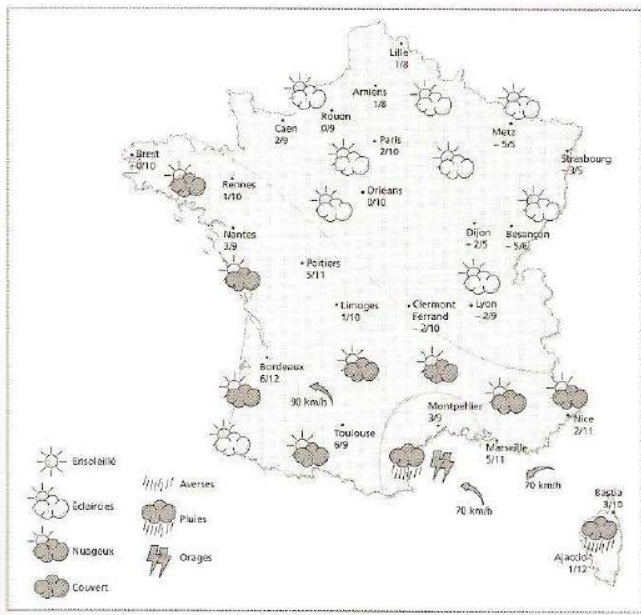


Source: 15 séquences de géographie, Retz CM2

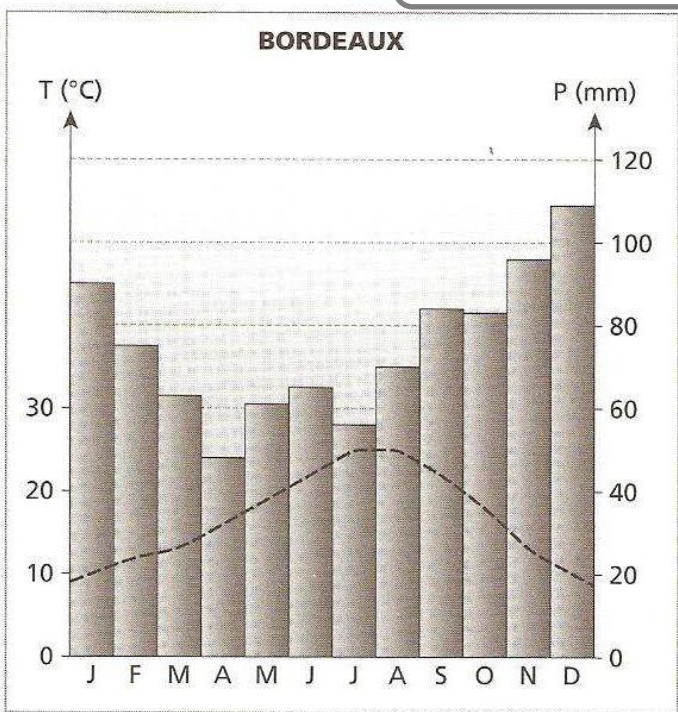


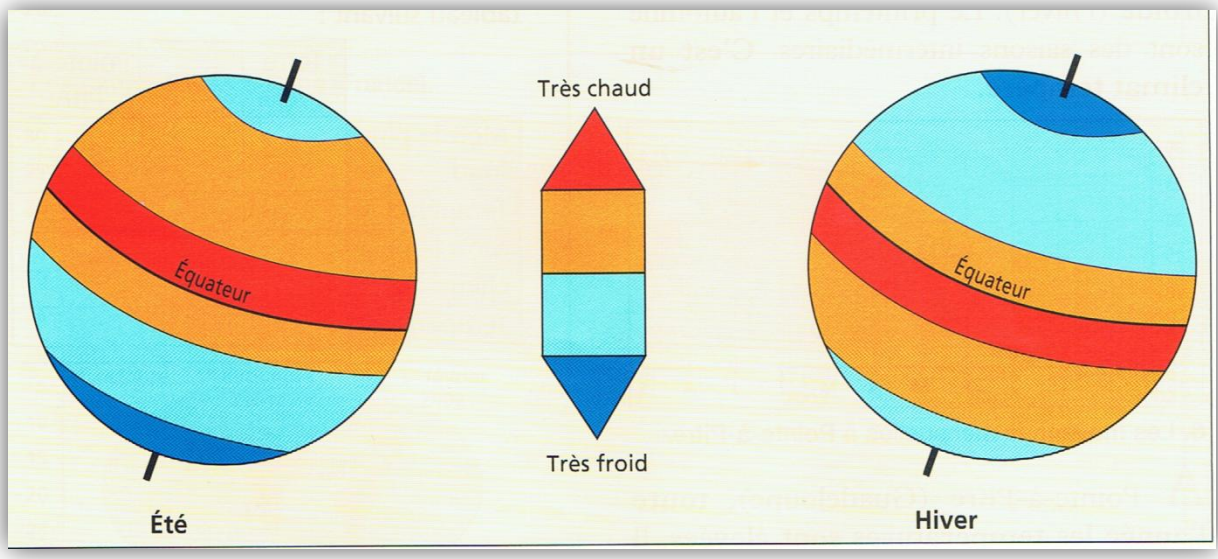
Prévisions météo pour le 7 février 2007.

Prévisions météo pour le 2 août 2007.

Source: 15 séquences de géographie, Retz CM2

Ville de Bordeaux





Etude de documents:

- Colorie le document suivant la flèche-légende (rouge, orange, bleu clair, bleu foncé).
- En hiver, où fait-il le plus chaud ? _____ Le plus froid ? _____
- En été, où fait-il le plus chaud ? _____ Le plus froid ? _____

Complète le tableau suivant en indiquant:

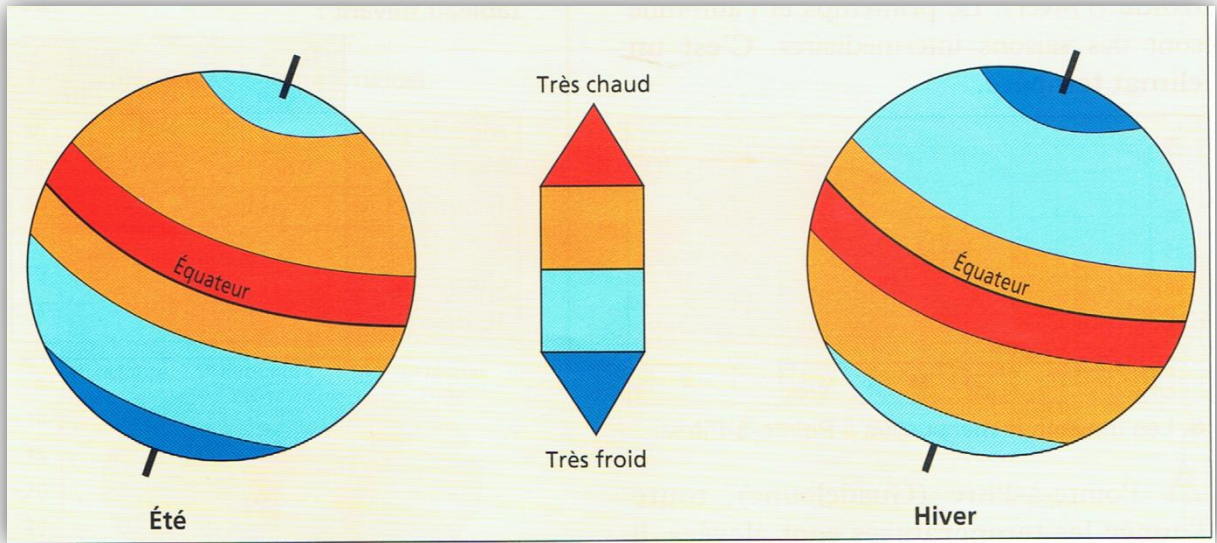
- TC ou TF lorsqu'il s'agit d'une zone où il fait Très Chaud ou Très froid.
- C ou F lorsqu'il s'agit d'une zone où il fait moyennement chaud ou froid.

| | | Hiver | Printemps | Eté | Automne |
|-----------------|---|-------|-----------|-----|---------|
| Hémisphère Nord | Entre le pôle nord et le cercle polaire arctique. | | | | |
| | Entre le cercle polaire arctique et le tropique du Cancer. | | | | |
| | Entre le tropique du Cancer et l'équateur. | | | | |
| Hémisphère Sud | Entre l'équateur et le tropique du Capricorne. | | | | |
| | Entre le tropique du Capricorne et le cercle polaire antarctique. | | | | |
| | Entre le cercle polaire antarctique et le pôle sud. | | | | |

-D'après ce tableau, quelles sont les grandes zones de climat dans le monde ?

.....

.....



Etude de documents:

- Colorie le document suivant la flèche-légende (rouge, orange, bleu clair, bleu foncé).
- En hiver, où fait-il le plus chaud ? **Autour de l'équateur, hémisphère sud** Le plus froid ? **Pôle nord**
- En été, où fait-il le plus chaud ? **Autour de l'équateur, hémisphère nord** Le plus froid ? **Pôle sud**

Complète le tableau suivant en indiquant:

- TC ou TF lorsqu'il s'agit d'une zone où il fait Très Chaud ou Très froid.
- C ou F lorsqu'il s'agit d'une zone où il fait moyennement chaud ou froid.

| | | Hiver | Printemps | Eté | Automne |
|-----------------|---|-------|-----------|-----|---------|
| Hémisphère Nord | Entre le pôle nord et le cercle polaire arctique. | TF | F | F | TF |
| | Entre le cercle polaire arctique et le tropique du Cancer. | F | C | C | F |
| | Entre le tropique du Cancer et l'équateur. | C | TC | TC | C |
| Hémisphère Sud | Entre l'équateur et le tropique du Capricorne. | TC | C | C | TC |
| | Entre le tropique du Capricorne et le cercle polaire antarctique. | C | F | F | C |
| | Entre le cercle polaire antarctique et le pôle sud. | F | TF | TF | F |

-D'après ce tableau, quelles sont les grandes zones de climat dans le monde ?

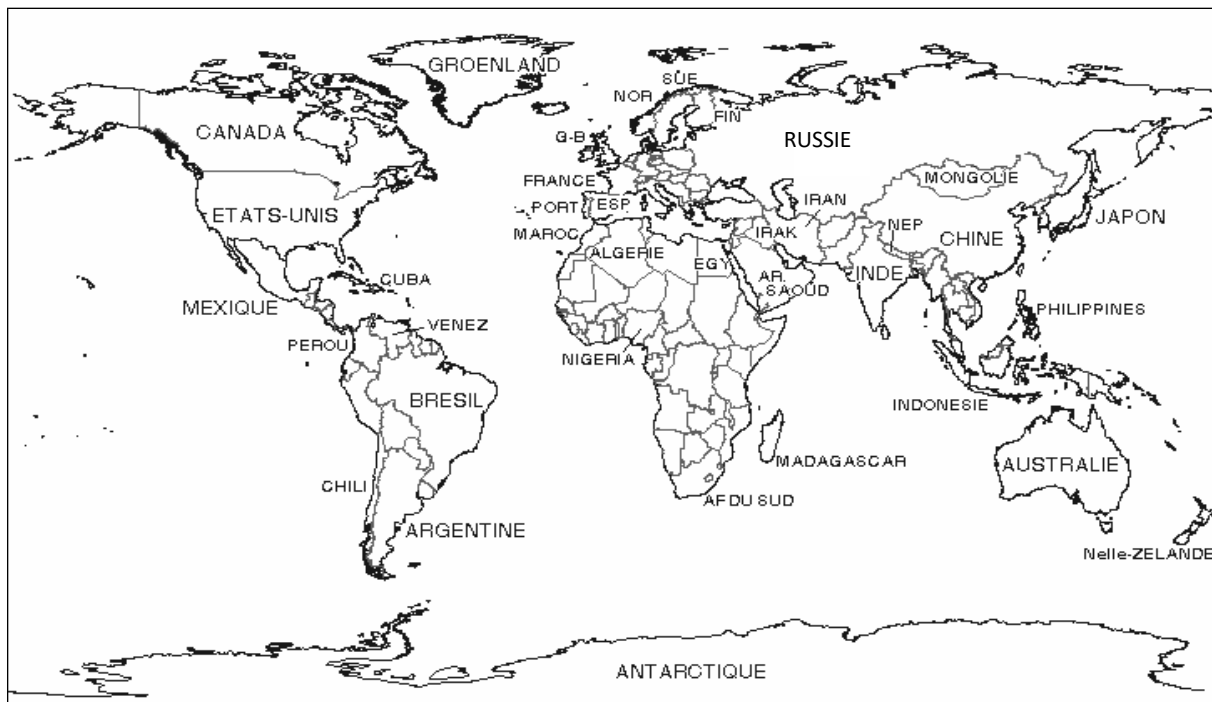
Les grandes zones de climat sont: zone polaire où il fait toujours froid, zone tempérée où il fait tantôt chaud, tantôt froid, zone tropicale où il fait toujours chaud.

Doc. 5 – Pays du monde: la surface des territoires

Géographie

Domaine: Les grands contrastes de la planète

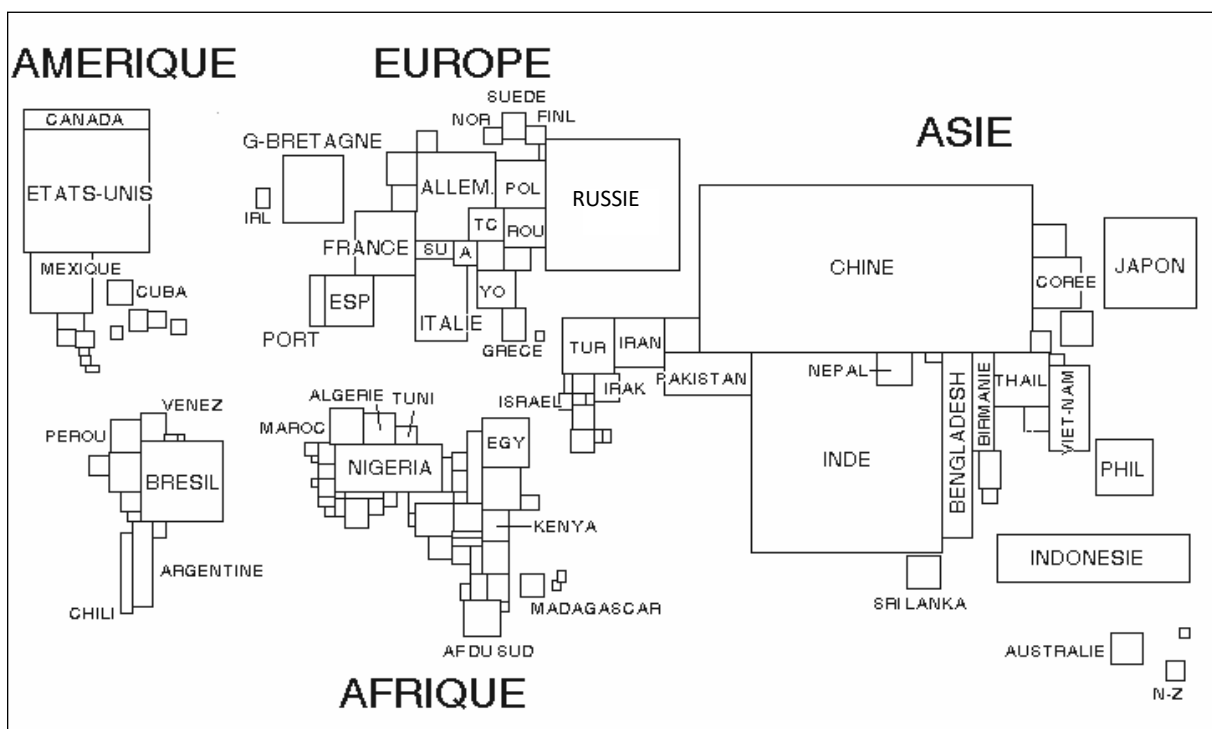
www.cenicienta.fr



Doc. 6 – Pays du monde: l'importance des populations

Géographie

Domaine: Les grands contrastes de la planète

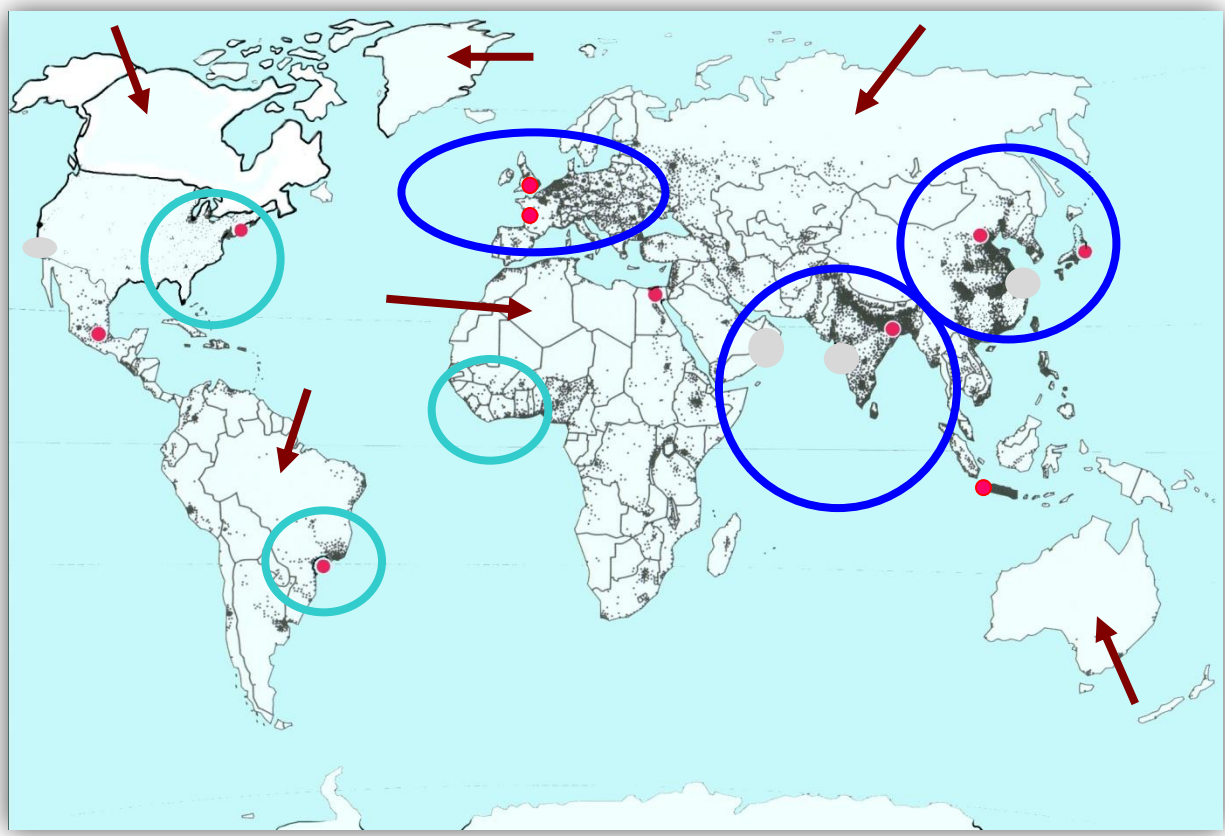


Domaine: Les grands contrastes de la planète

| Métropoles | Population en millions d'habitants en 2000 | Rang mondial (nombre d'habitants) |
|-----------------|--|-----------------------------------|
| Beijing (Pékin) | 10 | 27 ^e |
| Calcutta | 13 | 13 ^e |
| Djakarta | 15 | 10 ^e |
| Le Caire | 12 | 16 ^e |
| Londres | 9 | 26 ^e |
| Mexico | 20 | 4 ^e |
| New York | 25 | 2 ^e |
| Paris | 10 | 24 ^e |
| São Paulo | 18 | 5 ^e |
| Tokyo | 31 | 1 ^{er} |

- 1) Quelle est la plus grande métropole du monde en 2000 ?
- 2) Combien a-t-elle d'habitants ?
- 3) Sur quel continent se trouve-t-elle ?
- 4) Combien d'habitants vivent à Paris en 2000 ?
- 5) A quel rang se situe cette ville pour la population ?
- 6) En t'aidant du dictionnaire, souligne le nom des villes qui se trouvent dans l'hémisphère nord.
Que remarques-tu ?
- 7) Complète la carte ci-dessous et sa légende, puis trouve-lui un titre.

Titre:



Legend symbols:

- Red arrow
- Red dot
- Blue circle
- Blue circle

| Métropoles | Population en millions d'habitants en 2000 | Rang mondial (nombre d'habitants) |
|------------------------|--|-----------------------------------|
| <u>Beijing (Pékin)</u> | 10 | 27 ^e |
| <u>Calcutta</u> | 13 | 13 ^e |
| Djakarta | 15 | 10 ^e |
| <u>Le Caire</u> | 12 | 16 ^e |
| <u>Londres</u> | 9 | 26 ^e |
| <u>Mexico</u> | 20 | 4 ^e |
| <u>New York</u> | 25 | 2 ^e |
| <u>Paris</u> | 10 | 24 ^e |
| São Paulo | 18 | 5 ^e |
| <u>Tokyo</u> | 31 | 1 ^{er} |

1) Quelle est la plus grande métropole du monde en 2000 ?

Tokyo

1) Combien a-t-elle d'habitants ? 31 millions d'habitants

2) Sur quel continent se trouve-t-elle ? Asie

4) Combien d'habitants vivent à Paris en 2000 ? 10 000 000

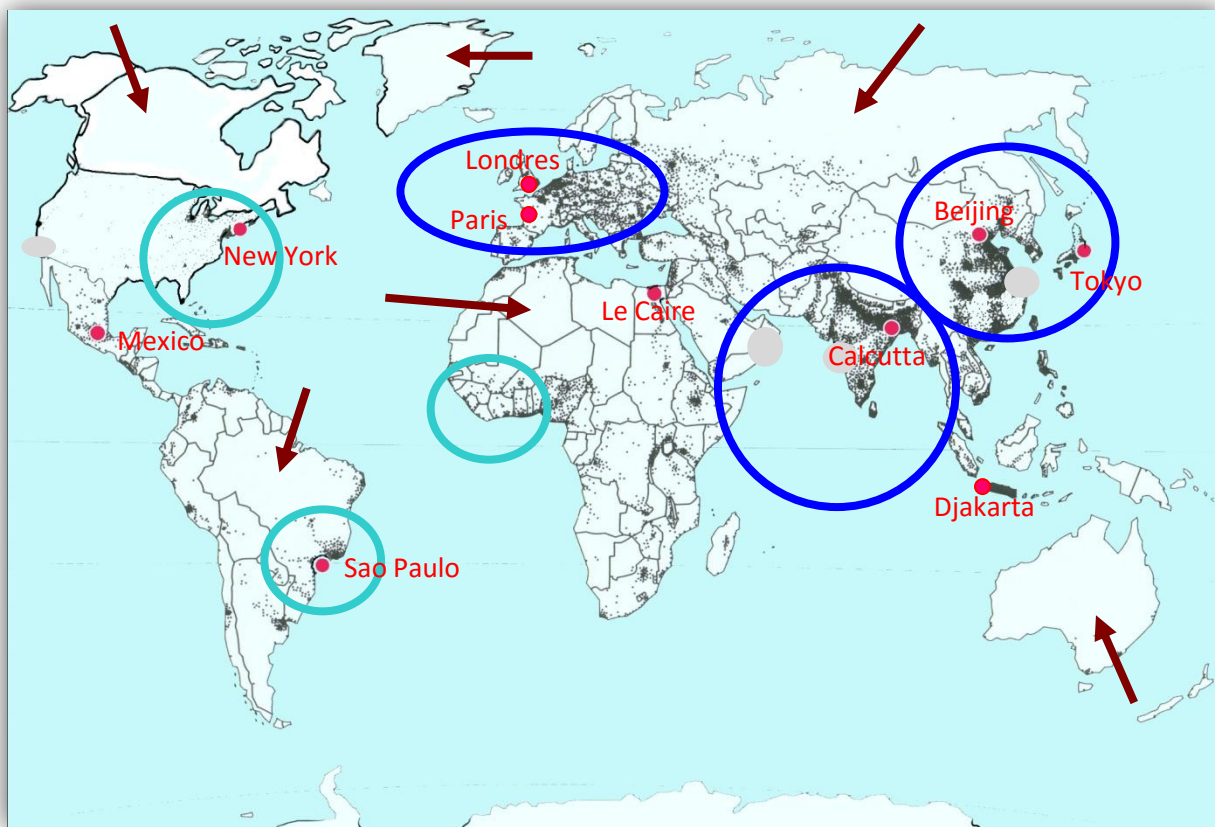
5) A quel rang se situe cette ville pour la population ? 24^e

6) En t'aidant du dictionnaire, souligne le nom des villes qui se trouvent dans l'hémisphère nord.

Que remarques-tu ? Il y en a peu dans l'hémisphère sud.

7) Complète la carte ci-dessous et sa légende, puis trouve-lui un titre.

Titre: Les grandes zones de peuplement du monde



→ Zones vides d'hommes

○ Zones à forte densité de population

● Grandes métropoles mondiales

○ Trois premières zones de peuplement du monde.

Si on pouvait réduire la population du monde à un village de 100 personnes, il y aurait:


- 21 riches
- 79 pauvres

Parmi les riches:

- 8 sont américains (Amérique du Nord)
- 8 sont européens
- 4 sont asiatiques (Japon)
- 1 est océanien (Australie)

Parmi les pauvres:

- 64 sont asiatiques (Chine et Inde)
- 3 sont africains
- 1 est asiatique (Russie)
- 6 sont américains (Amérique du Sud)
- 5 sont asiatiques (reste de l'Asie)



Voici un graphique de la population mondiale:

- Entoure en noir les deux groupes: » riches » et « pauvres ».
- Colorie en vert les américains
- Colorie en orange les européens
- Colorie en violet les asiatiques
- Colorie en marron les océanien
- Colorie en bleu les africains

Synthèse: complète le texte.

Sur la Terre, % de la population est « riche », % de la population est « pauvre ».

En Europe et en Océanie, la population est essentiellement En Afrique, la population est essentiellement En Amérique, seulement 50% de la population est

En Asie, 89% de la population est

Les endroits du monde les plus riches sont: , ,

Si on pouvait réduire la population du monde à un village de 100 personnes, il y aurait:

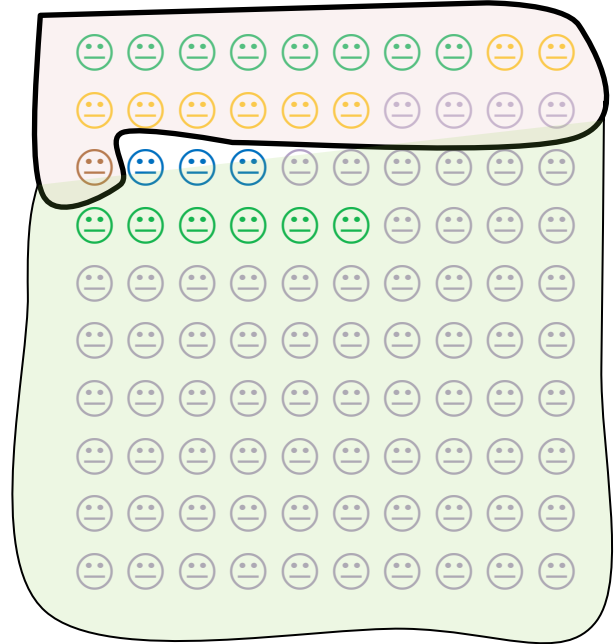
- 21 riches
- 79 pauvres

Parmi les riches:

- 8 sont américains (Amérique du Nord)
- 8 sont européens
- 4 sont asiatiques (Japon)
- 1 est océanien (Australie)

Parmi les pauvres:

- 64 sont asiatiques (Chine et Inde)
- 3 sont africains
- 1 est asiatique (Russie)
- 6 sont américains (Amérique du Sud)
- 5 sont asiatiques (reste de l'Asie)



Voici un graphique de la population mondiale:

- Entoure en noir les deux groupes: » riches » et « pauvres ».
- Colorie en vert les américains
- Colorie en orange les européens
- Colorie en violet les asiatiques
- Colorie en marron les océanien
- Colorie en bleu les africains

Synthèse: complète le texte.

Sur la Terre, **21 %** de la population est « riche », **79 %** de la population est « pauvre ».

En Europe et en Océanie, la population est essentiellement **riche**. En Afrique, la population est essentiellement **pauvre**. En Amérique, seulement 50% de la population est **riche**.

En Asie, 89% de la population est **pauvre**.

Les endroits du monde les plus riches sont: **Amérique du Nord, Europe, Australie, Japon**.