



# Bilan de géométrie

Dans le plan

Nom : \_\_\_\_\_

Prénom : \_\_\_\_\_

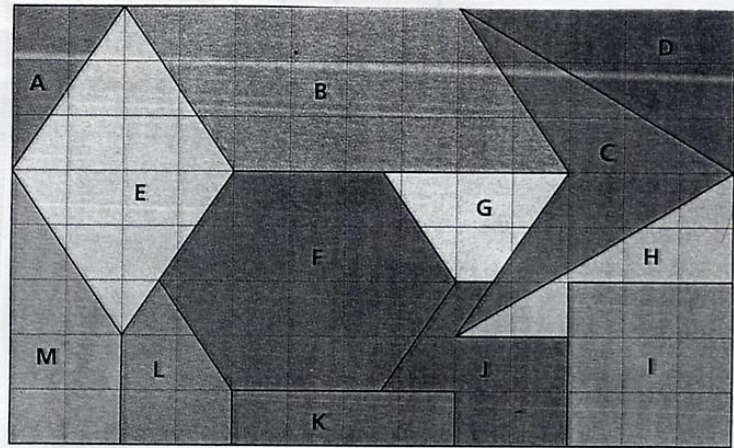
Date : \_\_/\_\_/\_\_

www.cenicienta.fr

## Compétences évaluées:

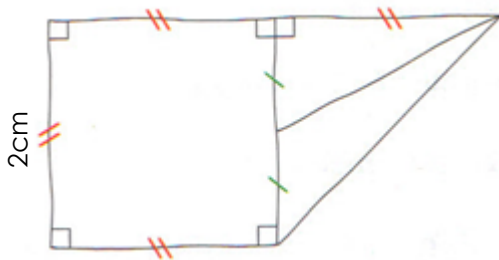
<b>Reconnaître, décrire, nommer et reproduire, tracer des figures planes en utilisant la règle graduée, l'équerre, le compas. (moyenne)</b>	S.C ✪	A	B	C	D
Reconnaître, décrire, nommer des figures géométriques planes. (ex: 1)		A	B	C	D
Reproduire et tracer des figures géométriques planes. (ex: 2 et 3)		A	B	C	D

❶ Observe ce dessin puis complète le tableau suivant en indiquant le nom des figures et en mettant des croix dans les colonnes concernées.



	Nom de la figure	Côtés opposés de même longueur	Angles droits	Côtés parallèles
I				
K				
D				
E				

❷ Cette figure est tracée à main levée. Reproduis-la sur la feuille en utilisant la règle et l'équerre.



❸ Construis ci-dessous:

- Un carré ABCD de 3 cm de côté.
- Un rectangle EFGH de 5 cm de longueur et de 2 cm de largeur.



# Bilan de géométrie

Dans le plan

Nom : \_\_\_\_\_

Prénom : \_\_\_\_\_

Date : \_\_/\_\_/\_\_

www.cenicienta.fr

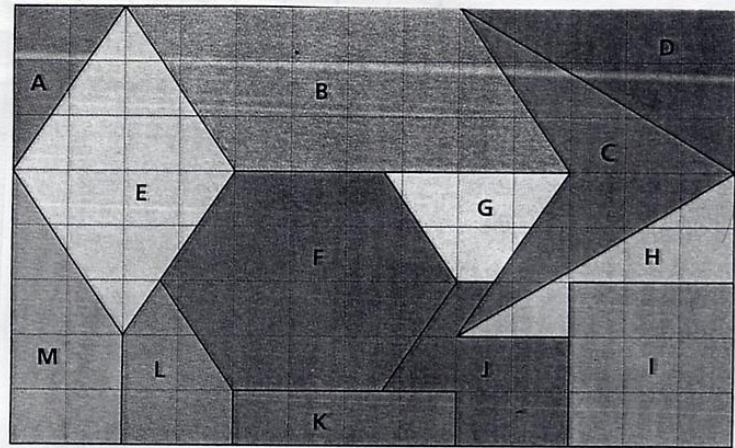
## Compétences évaluées:

Reconnaître, décrire, nommer et reproduire, tracer des figures planes en utilisant la règle graduée, l'équerre, le compas. (moyenne) S.C ✪ A B C D

Reconnaître, décrire, nommer des figures géométriques planes. (ex: 1) A B C D

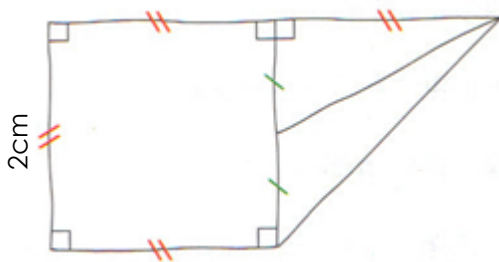
Reproduire et tracer des figures géométriques planes. (ex: 2 et 3) A B C D

① Observe ce dessin puis complète le tableau suivant en indiquant le nom des figures et en mettant des croix dans les colonnes concernées.



	Nom de la figure	Côtés opposés de même longueur	Angles droits	Côtés parallèles	Diagonales de même longueur.
I					
K					
D					
E					
B					

② Cette figure est tracée à main levée. Reproduis-la sur la feuille en utilisant la règle et l'équerre.



③ Construis ci-dessous:

- Un carré ABCD de 3 cm de côté.
- Un rectangle EFGH de 5 cm de longueur et de 2 cm de largeur.
- Construis un losange IJKL dont les diagonales mesurent 4 cm et 1 cm.



# Bilan de géométrie

Dans le plan

Nom : \_\_\_\_\_

Prénom : \_\_\_\_\_

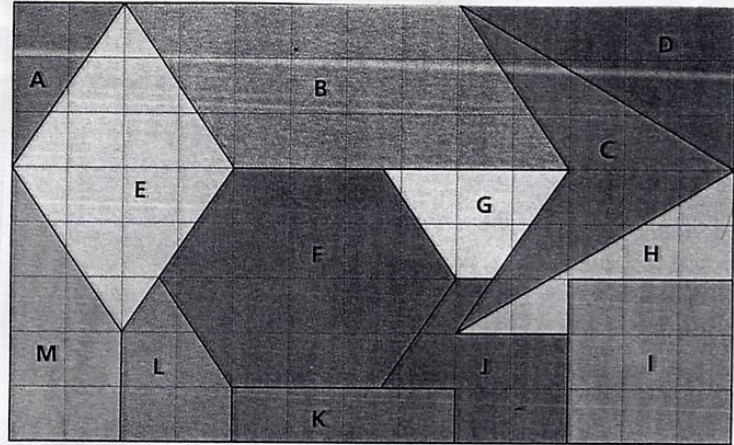
Date : \_\_/\_\_/\_\_

www.cenicienta.fr

## Compétences évaluées:

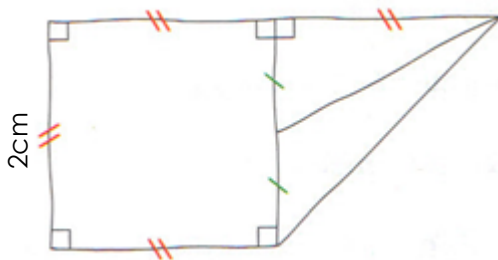
<b>Reconnaître, décrire, nommer et reproduire, tracer des figures planes en utilisant la règle graduée, l'équerre, le compas. (moyenne)</b>	S.C ✪	A	B	C	D
Reconnaître, décrire, nommer des figures géométriques planes. (ex: 1)		A	B	C	D
Reproduire et tracer des figures géométriques planes. (ex: 2 et 3)		A	B	C	D

❶ Observe ce dessin puis complète le tableau suivant en indiquant le nom des figures et en mettant des croix dans les colonnes concernées.



	Nom de la figure	Côtés opposés de même longueur	Angles droits	Côtés parallèles	Diagonales de même longueur.
I					
K					
D					
E					
B					
G					
M					

❷ Cette figure est tracée à main levée. Reproduis-la sur la feuille en utilisant la règle et l'équerre.



❸ Construis ci-dessous:

- Un carré ABCD dont les diagonales mesurent 3 cm.
- Un rectangle EFGH dont la longueur mesure 6 cm et la largeur le tiers de la longueur.
- Construis un losange IJKL dont les diagonales mesurent 4 cm et 1 cm.