

Groupe 1



Bilan ORGANISATION ET GESTION DE DONNÉES

Repérage sur quadrillage

Nom : _____

Prénom : _____

Date : __/__/__

www.cenicienta.fr

Compétences évaluées:

Lire les coordonnées d'un point. (ex: 1)

A B C D

Placer un point dont on connaît les coordonnées. (ex: 2 et 3)

A B C D

Voici un carré d'un chantier de fouilles archéologiques.
L'archéologue veut faire le relevé des objets mis au jour.

❶ Complète les coordonnées:

Clé (.....,)

Vase (.....,)

Monnaie (.....,)

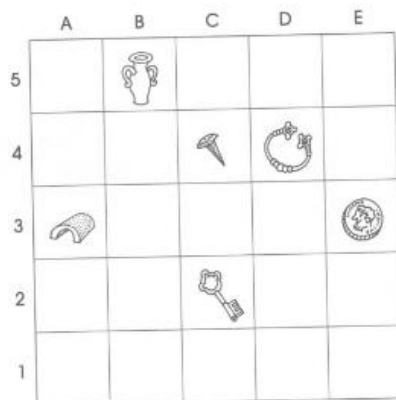
Clou (.....,)

Bracelet (.....,)

Tuile (.....,)

❷ Dessine l'os qui se trouve en (E, 5).

❸ Dessine la bague qui se trouve en (A,1).



Groupe 1



Bilan ORGANISATION ET GESTION DE DONNÉES

Repérage sur quadrillage

Nom : _____

Prénom : _____

Date : __/__/__

www.cenicienta.fr

Compétences évaluées:

Lire les coordonnées d'un point. (ex: 1)

A B C D

Placer un point dont on connaît les coordonnées. (ex: 2 et 3)

A B C D

Voici un carré d'un chantier de fouilles archéologiques.
L'archéologue veut faire le relevé des objets mis au jour.

❶ Complète les coordonnées:

Clé (.....,)

Vase (.....,)

Monnaie (.....,)

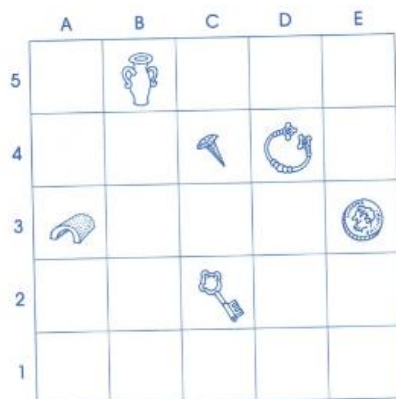
Clou (.....,)

Bracelet (.....,)

Tuile (.....,)

❷ Dessine l'os qui se trouve en (E, 5).

❸ Dessine la bague qui se trouve en (A,1).





Bilan ORGANISATION ET GESTION DE DONNÉES

Repérage sur quadrillage

Nom : _____

Prénom : _____

Date : __/__/__

www.cenicenta.fr

Compétences évaluées:

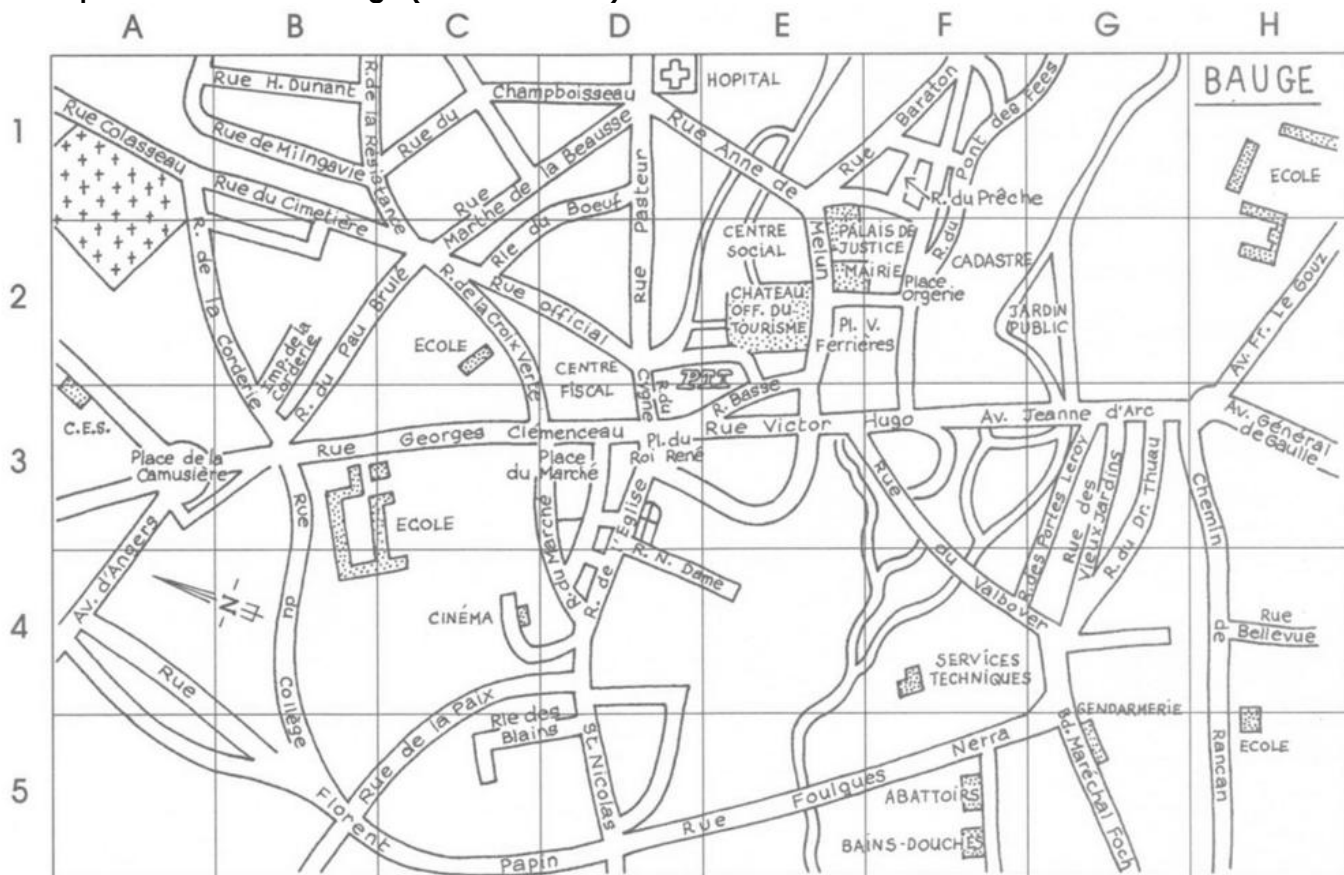
Lire les coordonnées d'un point. (ex: 1)

A B C D

Placer un point dont on connaît les coordonnées. (ex: 2 et 3)

A B C D

Voici le plan de la ville de Baugé (Maine-et-Loire):



❶ Indique dans quelle case se trouve:

- | | | | |
|-------------------|----------------|--------------------------|----------------|
| Le C.E.S | (.....,) | La place de la Camusière | (.....,) |
| La gendarmerie | (.....,) | Les services techniques | (.....,) |
| Le cinéma | (.....,) | Les abattoirs | (.....,) |
| Les bains-bouches | (.....,) | Le cadastre | (.....,) |
| La poste (P.T.T) | (.....,) | L'office du tourisme | (.....,) |

❷ Entoure en rouge l'école qui se trouve en (H, 5).

❸ Colorie en vert la rue du Prêche qui se trouve en (F, 1).

